

ОБОГАЋЕНИ ЈЕДНОСМЕНСКИ РАД

РЕШИТЕ МАТЕМАТИКУ ДА НЕ
ГРЕШИТЕ

У оквиру Обогаћеног једносменског рада на активности Решите да математику више не грешите са ученицима петог разреда организовано је квиз такмичење. Подељени су у три тима и одговарали су на питања из области природних бројева (приоритет рачунских операција) и основа геометрије.


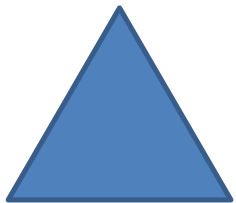
Циљ такмичења је био стицање знања кроз игру, развијање логичког размишљања и развијање такмичарског духа.



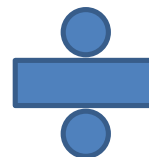








КВИЗ



ЗАДАТАК БРОЈ 1

Који је најмањи природан број?

А) 1 Б) 10 В) 0



ЗАДАТАК БРОЈ 2

За $x = 2$ вредност израза $20 - 10x$ је

А) 20

Б) 0

В) 10

ЗАДАТАК БРОЈ 3

За $x=5$ вредност израза $3x+1$ је

A) 36

Б) 16

В) 35

ЗАДАТАК БРОЈ 4

Вредност израза $30-18:3$ је

А) 4

Б) 5

В) 24


ЗАДАТАК БРОЈ 5

Колико дужи има на слици?

A) 1

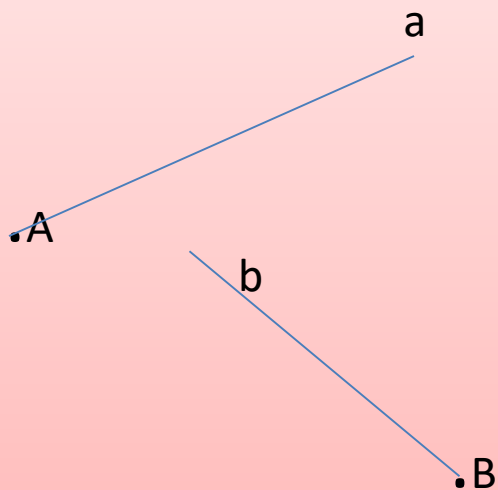
Б) 2

В) 3

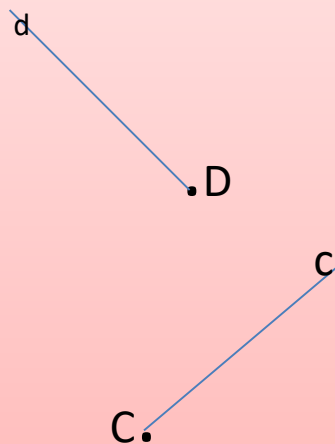


ЗАДАТАК БРОЈ 6


сл.1.



сл.2.



сл.3.



Полуправе се секу на слици:

А) 1

Б) 2

В) 3

ЗАДАТАК БРОЈ 7

Кроз једну тачку можемо повући:

А) 1

Б) 2

В) бесконачно

правих

ЗАДАТАК БРОЈ 8

- Који број припада четвртој стотини?
А) 401 Б) 400 В) 301

ЗАДАТАК БРОЈ 9

- Милан је имао 500 динара и потрошио једну петину тог новца. Колико му је динара остало?

А) 100 дин Б) 495 дин В) 400дин



ЗАДАТАК БРОЈ 10

- Страница квадрата је 20 центиметара. Колики је обим тог квадрата?

А) 40cm

Б) 80cm

В) 100cm



ЗАДАТАК БРОЈ 11

- Дечак има исто толико браће колико и сестара, а његова сестра има двапут мање сестара него браће. У тој породици има:

А) 3 брата и 3 сестре

Б) 3 брата и 4 сестре

В) 4 брата и 3 сестре



ХВАЛА НА ПАЖЊИ

Славица – наставница технике и технологије